

TROFEUL JNEPENILOR 2019

1. Ce reprezintă imaginea următoare?



- a) **Focul Viu**
- b) Focul Etern
- c) Focul Nesfârșit

2. Tufărișul din imagine poartă numele de:



- a) *Vaccinium myrtillus*
- b) ***Juniperus communis alpina***
- c) *Alnus viridis*

3. Cum se numește râul din imagine?




- a) Bâsca Mare
- b) Bâsca Rozilei
- c) **Bâsca Mică**

4. Planta din imagine, Drosera Rotundifolia, întâlnită pe Lacul Roșu poartă denumirea populară de:




- a) **Roua Cerului**
- b) Gura Leului
- c) Lacrima Roșie

5. Ce denumire poartă lacul din imagine?



- a) **Lacul Negru**
- b) Lacul Roșu
- c) Lacul Vulturilor

6. Cum se numește masivul din imagine?




- a) Masivul Podu Calului
- b) Masivul Siriu
- c) **Masivul Penteleu**

7. Lacul depresionar din imagine, aflat la 1510m altitudine, ce formează ochiuri de apă doar primăvara, se numește:



- a) **Lacul Roșu**
- b) Lacul Negru
- c) Lacul Mociaru

8. Ce chei din Munții Buzăului sunt reprezentate în imagine?



- a) Cheile Viforâtei
- b) Cheile Bâscei
- c) **Cheile Tigvei**

9. Cum se numește pasărea din imagine?




- a) Vultur
- b) **Uliu**
- c) Acvila de munte

10. Care este denumirea științifică a mamiferului din imagine?




- a) **Cervus elaphus**
- b) Felis silvestris
- c) Capreolus capreolus

11. Formațiunea din imaginea de mai jos poartă numele de:



- a) Piatra Singuratică
- b) **Bolovanul Mortatului**
- c) Stânca Unică

12. Cum se numește cascada din imagine?



- a) Cascada La Șipot
- b) **Cascada Cașoca**
- c) Cascada Vălul Miresei

13. În Munții Buzăului, până la 700-750m altitudine, se întâlnesc, de regulă, păduri de:



- a) Stejar
- b) Fag**
- c) Mesteacăn

14. Râul din imagine poartă numele de:




- a) Bâsca Mare**
- b) Tigva
- c) Teleajen

15. Imaginea de mai jos prezintă confluența dintre râurile:



- a) Bâsca Mare și Buzău
- b) **Bâsca Mare și Bâsca Mică**
- c) Bâsca Mică și Bâsca Rozilei

16. Orașul din imagine, situat în zona montană a județului Buzău, pe cursul superior al râului cu același nume, se numește:



- a) Buzău
- b) **Nehoiu**
- c) Siriu

17. În imaginea de mai jos putem vedea râul:



- a) Bâsca Mare
- b) **Buzău**
- c) Ursoaia

18. Vârful din imagine se numește:



- a) Viforâta
- b) **Penteleu**
- c) Crucea Feței

19. In imaginea de mai jos putem vedea:



- a) Culmea Vîforâta
- b) Culmea Ivănețu**
- c) Dealul Ivăneț

20. Sportul din imagine, practicat pe râul Bâsca Mare, poartă numele de:



- a) Canyoning
- b) Rafting**
- c) Kayaking

21. Cascada Cașoca mai este cunoscută sub numele de:
- a) Cascada Cailor
 - b) **Cascada Prunceea**
 - c) Cascada Mociaru
22. Ce altitudine are vârful Penteleu?
- a) **1772 m**
 - b) 1760 m
 - c) 1677 m
23. Munții Penteleu sunt formați din următoarele roci:
- a) vulcanice
 - b) șisturi cristaline
 - c) **gresii, argile, marne**
24. Care este temperatura medie anuală în Munții Buzăului?
- a) **sub 10 °C**
 - b) 10 - 15°C
 - c) 5 - 7°C
25. Care este cantitatea medie de precipitații anuale în Munții Buzăului?
- a) 1300 mm/an
 - b) **1000 mm/an**
 - c) 500 - 800 mm/an
26. Focul Viu este un fenomen natural datorat:
- a) rocilor vulcanice
 - b) trăsnetelor frecvente în zona munților Buzăului
 - c) **emanației de gaze naturale care iese la suprafață prin fisurile scoarței terestre**
27. Lacul Negru, lac depresionar, format în urma unor alunecări de teren, este populat cu următoarea specie de pește:
- a) **Caracuda**
 - b) Baracuda
 - c) Păstrăv
28. Ce masive formează Munții Buzăului?
- a) Podu Calului, Ciomatu, Penteleu
 - b) **Podu Calului, Siriu, Penteleu**
 - c) Siriu, Penteleu, Tătaru

29. Râul Buzău izvorăște din munții:

- a) Buzăului
- b) Ciucaș**
- c) Siriu

30. Munții Buzăului au următoarele limite:

- a) V - Munții Vrancei, E - Munții Ciucaș, S - Clăbucetele Întorsurii, N - Subcarpații de Curbură
- b) V - Munții Ciucaș, E - Munții Vrancei, S - Subcarpații de Curbură, N - Clăbucetele Întorsurii**
- c) V - Clăbucetele Întorsurii, E - Subcarpații de Curbură, S - Munții Ciucaș, N - Munții Vrancei