

## TROFEUL JNEPENILOR 2021

- 1) Ce râuri au confluența în apropiere de Munții Lotrului?
  - a) Lotru și Mureș
  - b) Lotru și Olt**
  - c) Argeș și Olt
  
- 2) Din ce grupă muntoasă fac parte Munții Lotrului?
  - a) Șureanu-Parâng-Lotrului**
  - b) Retezat-Godeanu
  - c) Bucegi-Leaota-Piatra Craiului
  
- 3) Care este cel mai înalt vârf din Munții Lotrului?
  - a) 2130 m, Vârful Nedeia
  - b) 2242 m, Vârful Șteflești**
  - c) 2245 m, Vârful Cindrel
  
- 4) Culmea Șteflești se desfășoară pe [...] km spre sud până spre Pasul Tărtărau, iar spre est cca. [...] km, până la Defileul Oltului.
  - a) 12-15, 10-12**
  - b) 17-18, 9-10
  - c) 9-10, 10-12
  
- 5) Pe ce suprafață se desfășoară Munții Lotrului?
  - a) 90 km<sup>2</sup>
  - b) 120 km<sup>2</sup>**
  - c) 100 km<sup>2</sup>
  
- 6) Cu ce grupe se învecinează Munții Lotrului?
  - a) Munții Cindrel (N), Munții Căpățâanii și Latoriței (S), Munții Făgăraș (E) și Munții Șureanu (V)**
  - b) Munții Cindrel (S), Munții Căpățâanii și Latoriței (N), Munții Făgăraș (E) și Munții Șureanu (V)
  - c) Munții Cindrel (N), Munții Căpățâanii și Latoriței (S), Munții Făgăraș (V) și Munții Șureanu (E)

- 7) Orașul Brezoi face parte din microregiunea istorică:
- Țara Luanei
  - Țara Loviștei**
  - Țara Lăpușului
- 8) O legendă locală spune că în sus, pe Valea Lotrilor, își aveau taberele haiduci renumiți, cu numele de:
- Voinea, Ciungu, Stan, Mălai și Breazu**
  - Horia, Cloșca și Crișan
  - Gruia, Călin, Voinea și Toma
- 9) Denumirea râului Lotru, “Iatrone”, provine din limba latină și înseamnă:
- tâlhar**
  - lăutar
  - hoinar
- 10) Rezervația Pădurea Călinești-Brezoi, cu suprafața de 200 de hectare, ce face parte din Parcul Național Cozia este cuprinsă între văile:
- Vasilatu, Lotru și Olt**
  - Furnica Mare, Lotru și Hoteagu
  - Ivănuș, Haneșu și Olt
- 11) **Laetiporus sulphureus** este o ciupercă comestibilă, cunoscută în popor sub denumirea de:




- găina de pădure**
- cuibușori de iască
- coada curcanului

12) Formațiunea cu elemente de geodiversitate din imagine, ce face parte din una dintre cele 8 arii protejate de pe Valea Lotrului, poartă numele de:



- a) **Valea Doabrei**
- b) Stâncile Lotrului
- c) Valea cu melci

13) Cascada din imagine poartă numele de:



- a) Cascada Cailor
- b) **Cascada Lotrișor**
- c) Cascada Valul Miresei

14) Vârful din imagine este:



a) **Vârful Zimbrul**

b) Vârful Țurțudanu

c) Vârful Cozia

15) Planta din imagine, cunoscută în popor și sub numele de Trei frați pătați, poartă în latină denumirea de:



a) **Viola tricolor**

b) Taraxacum officinale

c) Dianthus caryophyllus

16) Râul Lotru, cu debitul mediu de circa 20 m<sup>3</sup>/s, este amenajat hidroenergetic prin lacuri de acumulare. În imagine avem unul dintre ele:



- a) **Lacul Vidra**
- b) Lacul Vidraru
- c) Lacul Petrimanu

17) În imagine se poate vedea zona cunoscută sub numele de:



- a) **Biserica lui Mutu**
- b) Cheile Lotrului
- c) Valea lui Stan

18) Pădurea din imaginea de mai jos este o arie protejată de interes național, situată în județul Vâlcea, pe teritoriul administrativ al orașului Brezoi:



- a) Pădurea Hoia-Brezoi
- b) Pădurea Glodeasa
- c) Pădurea Călinești - Brezoi**

19) O denumire populară a formațiunilor din imagine, cunoscute și sub numele de Carapacele Doabrei, este:



- a) Melcii Doabrei**
- b) Cochilia Doabrei
- c) Stancile Doabrei

20) Ce episod din istoria românilor comemorează Monumentul Eroilor din Brezoi?




- a) Revoluția de la 1848
- b) Primul Război Mondial**
- c) Revoluția Română din 1989

21) În imagine se poate vedea râul ..., cunoscut în legende ca fiind "frate" cu Mureșul:




- a) Argeș
- b) Lotru
- c) **Olt**

22) Planta din imagine, denumită în limba latină Myosotis, este cunoscută în folclor sub numele de:



- a) albăstrea
- b) **floare de nu-mă-uita**
- c) viorea

23) Vârful ce se se poate vedea în depărtare, din pădurea Brezoi-Călineasa, este:



- a) **Vf. Cozia**
- b) Vf. Buila
- c) Vf. Cindrel



24) Biserica de lemn fără turlă din Brezoi, aflată pe lista monumentelor istorice, a fost construită în anul:



- a) 1789
- b) 1879
- c) 1659

25) În fotografie avem ..., des întâlnită în flora Munților Lotrului:



- a) ledera albă
- b) Gențiană
- c) Dedițel alb

26) Poiana Suliței se află la altitudinea de:



- a) **950m**
- b) 850m
- c) 560m

27) Vârful din imagine, având altitudinea de 644m, se numește:

- a) Țuțuiatu
- b) **Țurțudanu**
- c) Cucuiatu




28) Cum se numește pasărea din imagine?



- a) Ciuf
- b) Huhurez**
- c) Buhă

29) Din munții Lotrului se pot vedea munții ..., surprinși în imagine de mai jos:



- a) Parâng
- b) Făgăraș**
- c) Căpățâni

30) Reptila din imagine poartă numele de:



- a) triton
- b) salamandră
- c) **năpârcă**